


Series GEFH1/C



SET ~ 2

रोल नं.

Roll No.



प्रश्न-पत्र कोड
Q.P. Code

59/C/2

परीक्षार्थी प्रश्न-पत्र कोड को उत्तर-पुस्तिका के मुख-पृष्ठ पर अवश्य लिखें।

Candidates must write the Q.P. Code on the title page of the answer-book. *

राजनीति विज्ञान POLITICAL SCIENCE

निर्धारित समय : 3 घण्टे

अधिकतम अंक : 80

Time allowed : 3 hours

Maximum Marks : 80

नोट / NOTE :

- (i) कृपया जाँच कर लें कि इस प्रश्न-पत्र में मुद्रित पृष्ठ 23 हैं।
Please check that this question paper contains 23 printed pages.
- (ii) प्रश्न-पत्र में दाहिने हाथ की ओर दिए गए प्रश्न-पत्र कोड को परीक्षार्थी उत्तर-पुस्तिका के मुख-पृष्ठ पर लिखें।
Q.P. Code given on the right hand side of the question paper should be written on the title page of the answer-book by the candidate.
- (iii) कृपया जाँच कर लें कि इस प्रश्न-पत्र में 30 प्रश्न हैं।
Please check that this question paper contains 30 questions.
- (iv) कृपया प्रश्न का उत्तर लिखना शुरू करने से पहले, उत्तर-पुस्तिका में प्रश्न का क्रमांक अवश्य लिखें।
Please write down the serial number of the question in the answer-book before attempting it.
- (v) इस प्रश्न-पत्र को पढ़ने के लिए 15 मिनट का समय दिया गया है। प्रश्न-पत्र का वितरण पूर्वाह्न में 10.15 बजे किया जाएगा। 10.15 बजे से 10.30 बजे तक छात्र केवल प्रश्न-पत्र को पढ़ेंगे और इस अवधि के दौरान वे उत्तर-पुस्तिका पर कोई उत्तर नहीं लिखेंगे।
15 minute time has been allotted to read this question paper. The question paper will be distributed at 10.15 a.m. From 10.15 a.m. to 10.30 a.m., the students will read the question paper only and will not write any answer on the answer-book during this period.



सामान्य निर्देश :

निम्नलिखित निर्देशों को बहुत सावधानी से पढ़िए और उनका सख्ती से पालन कीजिए :

- (i) इस प्रश्न-पत्र में 30 प्रश्न हैं। सभी प्रश्न अनिवार्य हैं।
- (ii) यह प्रश्न-पत्र पाँच खण्डों में विभाजित है – खण्ड क, ख, ग, घ एवं ङ।
- (iii) खण्ड क में प्रश्न संख्या 1 से 12 तक बहुविकल्पीय (MCQ) प्रकार के एक-एक अंक के प्रश्न हैं।
- (iv) खण्ड ख में प्रश्न संख्या 13 से 18 तक लघु-उत्तरीय (SA) प्रकार के दो-दो अंकों के प्रश्न हैं। प्रत्येक प्रश्न का उत्तर 50 शब्दों से अधिक नहीं होना चाहिए।
- (v) खण्ड ग में प्रश्न संख्या 19 से 23 तक दीर्घ-उत्तरीय (LA) प्रकार के चार-चार अंकों के प्रश्न हैं। प्रत्येक प्रश्न का उत्तर 100 शब्दों से अधिक नहीं होना चाहिए।
- (vi) खण्ड घ में प्रश्न संख्या 24 से 26 तक अवतरण, कार्टून तथा मानचित्र-आधारित प्रश्न हैं।
- (vii) खण्ड ङ में प्रश्न संख्या 27 से 30 तक दीर्घ-उत्तरीय (LA) प्रकार के छह-छह अंकों के प्रश्न हैं। प्रत्येक प्रश्न का उत्तर 170 शब्दों से अधिक नहीं होना चाहिए।
- (viii) प्रश्न-पत्र में कोई समग्र विकल्प नहीं है। यद्यपि कुछ प्रश्नों में आंतरिक विकल्प का प्रावधान दिया गया है। इन प्रश्नों में से केवल एक ही प्रश्न का उत्तर लिखा जाए।
- (ix) इसके अतिरिक्त, प्रत्येक खण्ड एवं प्रश्नों के साथ, जहाँ आवश्यक हैं, निर्देश दिए गए हैं।

खण्ड क

प्रश्न संख्या 1 से 12 तक बहुविकल्पीय (MCQ) प्रकार के एक-एक अंक के प्रश्न हैं। 12×1=12

प्रश्न संख्या 1 के लिए, दो कथन दिए गए हैं — जिनमें एक को अभिकथन (A) तथा दूसरे को कारण (R) द्वारा अंकित किया गया है। इन कथनों को ध्यान से पढ़िए और नीचे दिए गए विकल्पों (a), (b), (c) और (d) में से उत्तर के रूप में सही विकल्प चुनिए।

1. अभिकथन (A) : 2014 के बाद भारतीय राजनीति में प्रमुख परिवर्तन, जाति और धर्म-आधारित राजनीति से विकास और शासन-उन्मुख राजनीति की ओर जाना था।

कारण (R) : एन.डी.ए. III की सरकार ने जनता के लिए आर्थिक-सामाजिक कल्याण की अनेक योजनाओं को शुरू किया।

- (a) अभिकथन (A) और कारण (R) दोनों सही हैं और कारण (R), अभिकथन (A) की सही व्याख्या करता है।
- (b) अभिकथन (A) और कारण (R) दोनों सही हैं, परन्तु कारण (R), अभिकथन (A) की सही व्याख्या नहीं करता है।
- (c) अभिकथन (A) सही है, परन्तु कारण (R) ग़लत है।
- (d) अभिकथन (A) ग़लत है, परन्तु कारण (R) सही है।



General Instructions :

Read the following instructions very carefully and strictly follow them :

- (i) *This question paper contains **30** questions. **All** questions are **compulsory**.*
- (ii) *This question paper is divided into **five** sections – Section **A, B, C, D** and **E**.*
- (iii) *In **Section A** – Questions no. **1** to **12** are Multiple Choice (MCQ) type questions, carrying **1** mark each.*
- (iv) *In **Section B** – Questions no. **13** to **18** are Short Answer (SA) type questions, carrying **2** marks each. Answers to these questions should not exceed **50** words each.*
- (v) *In **Section C** – Questions no. **19** to **23** are Long Answer (LA) type questions, carrying **4** marks each. Answers to these questions should not exceed **100** words each.*
- (vi) *In **Section D** – Questions no. **24** to **26** are Passage, Cartoon and Map-based questions.*
- (vii) *In **Section E** – Questions no. **27** to **30** are Long Answer (LA) type questions, carrying **6** marks each. Answers to these questions should not exceed **170** words each.*
- (viii) *There is no overall choice in the question paper. However, an internal choice has been provided in few questions. Only **one** of the choices in such questions has to be attempted.*
- (ix) *In addition to this, separate instructions are given with each section and question, wherever necessary.*

SECTION A

*Questions no. **1** to **12** are Multiple Choice (MCQ) type questions, carrying **1** mark each.* **12×1=12**

For Question number 1, two statements are given — one labelled as Assertion (A) and the other labelled as Reason (R). Read these statements carefully and choose the correct option as the answer from the options (a), (b), (c) and (d) given below.

- 1.** *Assertion (A) : A major change in Indian politics after 2014 is the shift from caste and religion-based politics to development and governance-oriented.*

Reason (R) : The NDA III government started several socio-economic welfare schemes for the masses.

- (a) Both Assertion (A) and Reason (R) are true and Reason (R) is the correct explanation of the Assertion (A).
- (b) Both Assertion (A) and Reason (R) are true, but Reason (R) is **not** the correct explanation of the Assertion (A).
- (c) Assertion (A) is true, but Reason (R) is false.
- (d) Assertion (A) is false, but Reason (R) is true.



2. निम्नलिखित घटनाओं को उनके घटना काल के क्रमानुसार व्यवस्थित कीजिए :
- (i) लोक सभा चुनाव जिनके पश्चात् संयुक्त प्रगतिशील गठबंधन (संप्रग) केन्द्र में सत्ता में आया ।
 - (ii) बहुजन समाज पार्टी को उत्तर प्रदेश में पहली बार उल्लेखनीय सफलता प्राप्त हुई ।
 - (iii) मंडल आयोग ने अपनी सिफारिशें प्रस्तुत कीं ।
 - (iv) एच.डी. देवगौड़ा भारत के प्रधान मंत्री बने ।
- सही विकल्प चुनिए ।
- (a) (i), (ii), (iii), (iv) (b) (i), (iii), (ii), (iv)
 - (c) (iii), (ii), (iv), (i) (d) (iv), (iii), (ii), (i)
3. किस वर्ष में चीन ने तिब्बत को अपने नियंत्रण में लिया था ?
- (a) 1950 (b) 1956
 - (c) 1962 (d) 1968
4. पारंपरिक सुरक्षा की अवधारणा के अनुसार, किसी देश की सुरक्षा को निम्नलिखित में से किस एक से सर्वाधिक खतरा है ?
- (a) सीमा के बाहर से सैन्य खतरा
 - (b) आर्थिक संकट से
 - (c) जनसंख्या विस्फोट से
 - (d) महामारियों से
5. निम्नलिखित में से कौन संयुक्त राष्ट्रसंघ की एक एजेंसी **नहीं** है ?
- (a) अंतर्राष्ट्रीय श्रम संगठन
 - (b) यूनेस्को (UNESCO)
 - (c) अंतर्राष्ट्रीय न्यायालय
 - (d) यूनिसेफ (UNICEF)
6. सोवियत मॉडल पर आधारित चीन की अर्थव्यवस्था के संबंध में असत्य कथन को पहचानिए ।
- (a) सभी नागरिकों को रोज़गार सुनिश्चित किए गए ।
 - (b) बेहतर स्वास्थ्य का आश्वासन नहीं दिया गया ।
 - (c) चीन कई विकासशील देशों से आगे निकल गया ।
 - (d) समाज कल्याण की कई योजनाएँ प्रारंभ की गईं ।



2. Rearrange the following events in a chronological order :
- (i) Lok Sabha Elections after which United Progressive Alliance (UPA) came to power at the Centre.
 - (ii) Bahujan Samaj Party achieved first breakthrough in Uttar Pradesh.
 - (iii) The Mandal Commission gave its recommendations.
 - (iv) H.D. Deve Gowda became the Prime Minister of India.
- Choose the correct option.
- (a) (i), (ii), (iii), (iv)
 - (b) (i), (iii), (ii), (iv)
 - (c) (iii), (ii), (iv), (i)
 - (d) (iv), (iii), (ii), (i)
3. In which year did China take over the control of Tibet ?
- (a) 1950
 - (b) 1956
 - (c) 1962
 - (d) 1968
4. In the traditional concept of security, the greatest danger to the security of a country is from _____.
- (a) military threats from outside its borders
 - (b) economic crisis
 - (c) population explosion
 - (d) from epidemics
5. Which one of the following is **not** an agency of the United Nations ?
- (a) International Labour Organisation
 - (b) UNESCO
 - (c) International Court of Justice
 - (d) UNICEF
6. Identify the false statement related to the Chinese economy based on the Soviet model.
- (a) Employment was assured to all citizens.
 - (b) Better health was not ensured.
 - (c) China moved ahead of many developing countries.
 - (d) Many social welfare schemes were introduced.



7. सितम्बर 1961 में, गुटनिरपेक्ष आंदोलन का पहला सम्मेलन कहाँ हुआ था ?
(a) नई दिल्ली (b) काहिरा
(c) जकार्ता (d) बेलग्रेड
8. 1953 में राज्य पुनर्गठन आयोग का गठन किस लिए किया गया था ?
(a) केन्द्र-शासित क्षेत्रों के निर्माण की सिफारिश के लिए
(b) राज्यों के पुनर्संयोजन के लिए
(c) रजवाड़ों के भारत में विलय के लिए
(d) केवल ब्रिटिश शासन के अधीन प्रांतों के पुनर्गठन के लिए
9. भारत का पहला उप-प्रधानमंत्री कौन था ?
(a) सरदार पटेल
(b) मोरारजी देसाई
(c) चौ. चरण सिंह
(d) सी. राजगोपालाचारी
10. निम्नलिखित में से कौन-सा देश आसियान (ASEAN) के संस्थापक देशों में **नहीं** था ?
(a) सिंगापुर (b) थाईलैंड
(c) इंडोनेशिया (d) वियतनाम
11. यूरोपीय संघ के झंडे में बने सोने के रंग के सितारों का घेरा _____ का प्रतीक है ।
(a) एकता तथा शक्ति
(b) शांति तथा सौहार्द
(c) एकता तथा विभिन्नता
(d) एकता और मेल-मिलाप
12. निम्नलिखित में से कौन-सा देश 'दक्षिण एशिया' में शामिल **नहीं** है ?
(a) भूटान (b) नेपाल
(c) चीन (d) पाकिस्तान



7. Where was the first summit of the NAM held in September 1961 ?
- (a) New Delhi (b) Cairo
(c) Jakarta (d) Belgrade
8. The States Reorganisation Commission was appointed in 1953 to _____.
(a) recommend the formation of Union Territories
(b) redraw the boundaries of States
(c) merge the Princely States with India
(d) reorganise only the provinces under the British control
9. Who was the first Deputy Prime Minister of India ?
(a) Sardar Patel
(b) Morarji Desai
(c) Ch. Charan Singh
(d) C. Rajgopalachari
10. Which one of the following was **not** a founder country of ASEAN ?
(a) Singapore (b) Thailand
(c) Indonesia (d) Vietnam
11. In the European Union flag, the circle of gold stars stands for _____.
(a) solidarity and strength
(b) peace and harmony
(c) unity and diversity
(d) solidarity and harmony
12. 'South Asia' does **not** include which one of the following countries ?
(a) Bhutan (b) Nepal
(c) China (d) Pakistan



खण्ड ख

13. स्वतंत्रता के बाद पहली बार किसी गैर-काँग्रेसी राजनीतिक दल ने कब और किस राज्य में सरकार बनाई ? उस राजनीतिक दल का नाम भी लिखिए । $1+1=2$
14. दो उदाहरणों की सहायता से दर्शाइए कि भारत को रूस के साथ अपने संबंधों से लाभ पहुँचता है । $2 \times 1 = 2$
15. यूरोपीय संघ की सैन्य शक्ति का मूल्यांकन कीजिए । 2
16. 1964 में भारतीय कम्युनिस्ट पार्टी के विभाजन के कारण को स्पष्ट कीजिए । 2
17. 'ब्रिक्स (BRICS)' का विस्तृत रूप लिखिए तथा इसके मुख्य उद्देश्य को उजागर कीजिए । $1+1=2$
18. मुस्लिम लीग द्वारा प्रस्तुत द्वि-राष्ट्र के सिद्धांत की व्याख्या कीजिए । 2

खण्ड ग

19. यूनेस्को (UNESCO) का विस्तृत रूप लिखिए । इसके किन्हीं दो कार्यों का उल्लेख कीजिए । $1+3=4$
20. भारत में 1960 के दशक को 'खतरनाक दशक' के रूप में कहे जाने के लिए उत्तरदायी आशंकाओं को उजागर कीजिए । 4
21. क्या यह उचित है कि वीटो शक्ति का अधिकार संयुक्त राष्ट्र सुरक्षा परिषद् के केवल पाँच स्थायी सदस्यों को ही दिया जाए ? किन्हीं दो उपयुक्त तर्कों द्वारा अपने उत्तर की पुष्टि कीजिए । $2 \times 2 = 4$
22. विभाजन के समय ब्रिटिश इंडिया के दो मुस्लिम बहुल प्रांतों (पंजाब और बंगाल) की समस्या को उजागर कीजिए । इस समस्या के समाधान का विश्लेषण कीजिए । $2+2=4$
23. भारत की संस्कृति पर वैश्वीकरण के हुए किन्हीं दो प्रभावों का विश्लेषण कीजिए । $2 \times 2 = 4$



SECTION B

13. When and in which State did a non-Congress political party form the Government after Independence for the first time ? Name the political party also. 1+1=2
14. Show with the help of two examples that India stands to benefit from its relationship with Russia. 2×1=2
15. Evaluate the military strength of the European Union. 2
16. Explain the cause of split in the Communist Party of India in 1964. 2
17. Write the full form of 'BRICS' and highlight its main objective. 1+1=2
18. Explain the Two-Nation Theory advanced by the Muslim League. 2

SECTION C

19. Write the full form of UNESCO. State any two of its functions. 1+3=4
20. Highlight the apprehensions responsible for labelling the decade of 1960s in India as the 'dangerous decade'. 4
21. Is it justified to give Veto Power only to five permanent members of the U.N. Security Council ? Support your answer with any two arguments. 2×2=4
22. Highlight the problem of the two Muslim majority provinces of British India (Punjab and Bengal) at the time of partition. Analyse the decision taken to solve the problem. 2+2=4
23. Analyse any two effects of globalisation on the culture of India. 2×2=4



खण्ड घ

24. निम्नलिखित अवतरण को ध्यानपूर्वक पढ़िए और नीचे दिए गए प्रश्नों के उत्तर दीजिए : $4 \times 1 = 4$

1977 में जनता पार्टी की सरकार बनी थी। इस सरकार ने घोषणा की कि सच्ची गुटनिरपेक्ष नीति का पालन किया जाएगा। इसके बाद की सभी सरकारों ने (काँग्रेसी या गैर-काँग्रेसी) चीन के साथ बेहतर संबंध बनाने और अमरीका के साथ नज़दीकी रिश्ते बनाने की पहल की। भारतीय राजनीति में और आमतौर पर चलने वाली बहसों में भी भारत की विदेश नीति को विशेष तौर पर दो संदर्भों में देखा जाता है। 1990 के बाद के दौर में अमरीका-समर्थक विदेश नीति अपनाने के लिए शासक दलों की आलोचना हुई है।

- (i) जनता पार्टी सरकार ने सच्ची गुटनिरपेक्ष नीति का पालन करने के लिए भारतीय विदेश नीति में क्या परिवर्तन करने का फैसला किया ?
- (a) सोवियत संघ की ओर झुकाव को सही किया जाएगा।
 - (b) भारत अपना शक्ति गुट बनाएगा।
 - (c) भारत अपनी विदेश नीति में अमरीका की ओर झुकाव वाली नीति लाएगा।
 - (d) भारत पृथक् रहने की नीति अपनाएगा।
- (ii) 1977 में जनता पार्टी के शासनकाल में निम्नलिखित में से भारत के प्रधान मंत्री कौन थे ?
- (a) चौ. चरण सिंह
 - (b) मोरारजी देसाई
 - (c) चौ. देवी लाल
 - (d) चन्द्रशेखर
- (iii) 1990 के दशक में भारतीय विदेश नीति में अमरीका-समर्थक रणनीति अपनाने का कारण क्या था ?
- (a) आर्थिक हित
 - (b) सैन्य हित
 - (c) न्यूक्लियर हित
 - (d) सांस्कृतिक हित



SECTION D

24. Read the following passage carefully and answer the questions that follow :

4×1=4

The Janata Party Government that came to power in 1977 announced that it would follow genuine non-alignment. Since then, all Governments, (Congress or non-Congress) have taken initiatives for restoring better relations with China and entering into close ties with US. In Indian politics and in popular mind, India's foreign policy is always very closely linked to two questions. In the post-1990 period, the ruling parties have often been criticised for their pro-US foreign policy.

- (i) What did the Janata Party Government decide to change in the foreign policy of India to follow genuine non-alignment ?
- (a) Pro-Soviet tilt would be corrected.
 - (b) India would form its own power bloc.
 - (c) India would have a pro-US tilt in its foreign policy.
 - (d) India would remain isolated.
- (ii) Who among the following was the Prime Minister of India when the Janata Party came into power in 1977 ?
- (a) Ch. Charan Singh
 - (b) Morarji Desai
 - (c) Ch. Devi Lal
 - (d) Chandra Shekhar
- (iii) The pro-US strategy in India's foreign policy during 1990s was mainly due to its _____.
- (a) economic interests
 - (b) military interests
 - (c) nuclear interests
 - (d) cultural interests



(iv) निम्नलिखित मुद्दों में से कौन-सा मुद्दा हमेशा भारत की विदेश नीति से निकटता से जुड़ा रहा है ?

- (a) भारत-श्रीलंका के व्यापारिक संबंध
- (b) भारत-पाकिस्तान के संबंध
- (c) भारत-चीन के सांस्कृतिक संबंध
- (d) भारत-जापान के परमाणु संबंध

25. भारत के दिए गए राजनीतिक रेखा-मानचित्र (पृष्ठ 13 पर) में चार राज्यों को ①, ②, ③ तथा ④ के द्वारा अंकित किया गया है। नीचे दी गई जानकारी के आधार पर इन राज्यों की पहचान कीजिए और अपनी उत्तर-पुस्तिका में इनके सही नाम, प्रयोग की गई जानकारी की क्रम-संख्या तथा मानचित्र में दिया गया संबंधित अक्षर, नीचे दी गई तालिका के रूप में लिखिए :

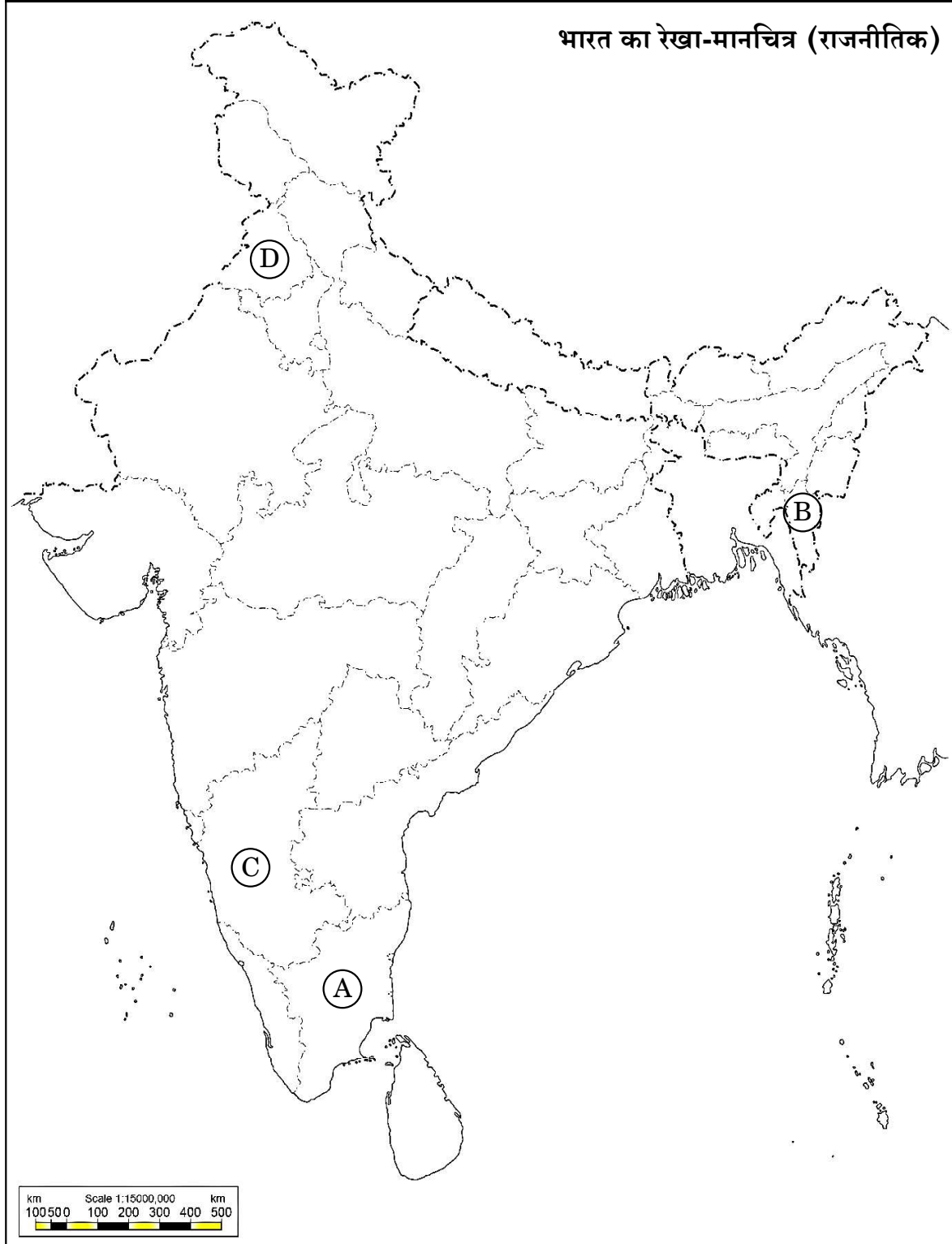
4×1=4

| प्रयोग की गई जानकारी की क्रम-संख्या | मानचित्र में दिया गया संबंधित अक्षर | राज्य का नाम |
|-------------------------------------|-------------------------------------|--------------|
| (i) | | |
| (ii) | | |
| (iii) | | |
| (iv) | | |

- (i) वह राज्य जिसका संबंध समाज सुधारक ई.वी. रामास्वामी पेरियार से था।
- (ii) वह राज्य जहाँ राजीव गाँधी – लोंगोवाल समझौते पर हस्ताक्षर किए गए थे।
- (iii) वह राज्य जिससे लालडेंगा का संबंध था।
- (iv) वह राज्य जिसका संबंध पूर्व प्रधान मंत्री एच.डी. देवगौड़ा से था।



प्रश्न सं. 25 के लिए





- (iv) Which one of the following issues has always been closely linked to India's foreign policy ?
- (a) India's trade relations with Sri Lanka
 - (b) India's relations with Pakistan
 - (c) India's cultural relations with China
 - (d) India's nuclear relations with Japan

- 25.** In the given political outline map of **India** (on page 15), four States have been marked as (A), (B), (C) and (D) . Identify these States on the basis of the information given below and write their correct names in your answer-book along with the respective serial number of the information used and the concerned alphabets given in the map as per the following format :

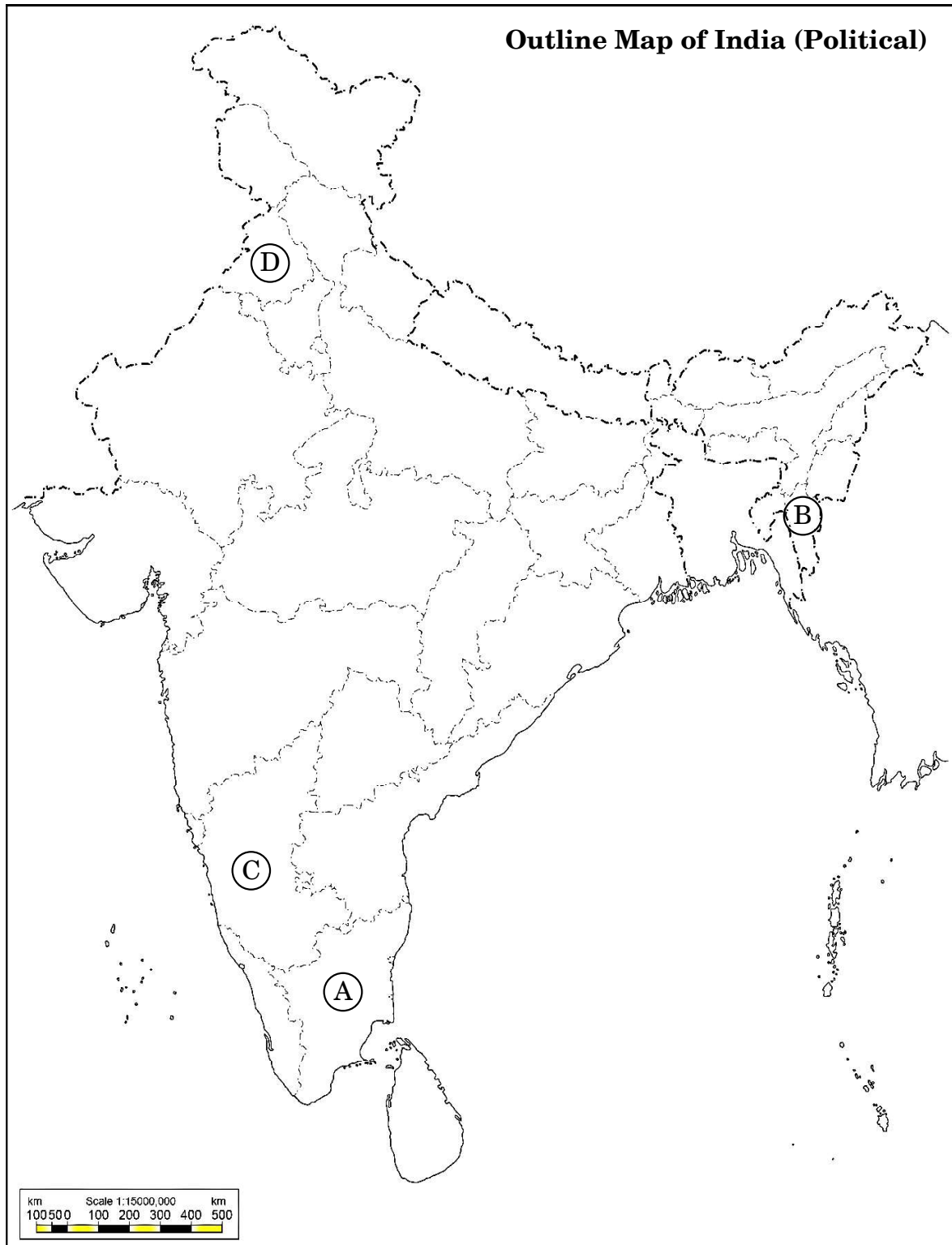
4×1=4

| Serial number of the information used | Concerned alphabet given in the map | Name of the State |
|---------------------------------------|-------------------------------------|-------------------|
| (i) | | |
| (ii) | | |
| (iii) | | |
| (iv) | | |

- (i) The State to which the social reformer E.V. Ramaswamy Periyar belonged.
- (ii) The State where Rajiv Gandhi – Longowal Accord was signed.
- (iii) The State to which Laldenga belonged.
- (iv) The State to which former Prime Minister H.D. Deve Gowda belonged.



For question no. 25





नोट : निम्नलिखित प्रश्न केवल दृष्टिबाधित परीक्षार्थियों के लिए प्रश्न संख्या 25 के स्थान पर हैं :

4×1=4

- (25.1) उस राज्य का नाम लिखिए जिसका संबंध समाज सुधारक ई.वी. रामास्वामी पेरियार से था ।
- (25.2) राजीव गाँधी – लोंगोवाल समझौता किस राज्य के बारे में हुआ था ?
- (25.3) किस राज्य की समस्याओं का समाधान करने के लिए लालडेंगा तथा राजीव गाँधी के बीच समझौते पर हस्ताक्षर हुए थे ?
- (25.4) जम्मू तथा कश्मीर राज्य से कौन-से दो केन्द्र-शासित क्षेत्र बनाए गए ?

26. नीचे दिए गए कार्टून का ध्यानपूर्वक अध्ययन कीजिए और निम्नलिखित प्रश्नों के उत्तर दीजिए :

4×1=4



Surendra, The Hindu

- (i) दिया गया कार्टून निम्नलिखित क्षेत्रीय संगठनों में से किस एक से संबंधित है ?
- (a) आसियान (b) ब्रिक्स
- (c) जी-7 (d) सार्क (दक्षेस)



Note : The following questions are for the **Visually Impaired Candidates** only, in lieu of Q. No. 25 :

4×1=4

- (25.1) The Social reformer E.V. Ramaswamy Periyar belonged to which State ?
- (25.2) Rajiv Gandhi – Longowal Accord was signed for which State ?
- (25.3) Rajiv Gandhi signed an agreement with Laldenga to resolve the problems of which State ?
- (25.4) Which two Union Territories were carved out of the State of Jammu and Kashmir ?

26. Study the cartoon given below carefully and answer the questions that follow :

4×1=4



Surendra, The Hindu

- (i) The cartoon is related to which one of the following regional organisations ?
 - (a) ASEAN
 - (b) BRICS
 - (c) G-7
 - (d) SAARC



- (ii) उस सदस्य देश की पहचान कीजिए जिसका नाम कार्टून में नहीं है ।
- (a) ईरान
 - (b) अफगानिस्तान
 - (c) म्याँमार
 - (d) पाकिस्तान
- (iii) कार्टून से संबंधित संगठन का मुख्य उद्देश्य क्या है ?
- (a) बहुस्तरीय साधनों से सदस्य राज्यों में सहयोग स्थापित करना ।
 - (b) द्विस्तरीय संघर्षों को निपटाना ।
 - (c) आपसी सामाजिक तथा धार्मिक संघर्षों का हल निकालना ।
 - (d) सामान्य दुश्मन के विरुद्ध इकट्ठे मिलकर मुकाबला करना ।
- (iv) निम्नलिखित सदस्य देशों में से किस देश में निर्वाचित सरकार **नहीं** है ?
- (a) नेपाल
 - (b) मालदीव
 - (c) भूटान
 - (d) बांग्लादेश

नोट : निम्नलिखित प्रश्न केवल दृष्टिबाधित परीक्षार्थियों के लिए प्रश्न संख्या 26 के स्थान पर हैं :

4×1=4

- (26.1) सार्क संबंधी, निम्नलिखित कथनों में से कौन-सा कथन सही है ?
- (a) यह एक मुख्य अंतर्राष्ट्रीय पहल है ।
 - (b) सहयोग की स्थापना के लिए यह एक क्षेत्रीय प्रयास है ।
 - (c) इसका विस्तृत नाम (रूप) है साउथ एशियन एसोसिएशन फॉर रिवाइवल ऑफ कोऑपरेशन ।
 - (d) सार्क (दक्षेस) का सबसे शक्तिशाली सदस्य देश चीन है ।



- (ii) Identify the member country whose name is missing in the cartoon.
- (a) Iran
 - (b) Afghanistan
 - (c) Myanmar
 - (d) Pakistan
- (iii) What is the main objective of the organisation related to the cartoon ?
- (a) To evolve cooperation among member states through multilateral means.
 - (b) To resolve bilateral conflicts.
 - (c) To solve mutual social and religious conflicts.
 - (d) To fight together against a common enemy.
- (iv) Which one of the following member countries does **not** have an elected government ?
- (a) Nepal
 - (b) Maldives
 - (c) Bhutan
 - (d) Bangladesh

Note : The following questions are for the **Visually Impaired Candidates** only, in lieu of Q. No. 26 :

4×1=4

- (26.1) Which one of the following statements about SAARC is correct ?
- (a) It is a major international initiative.
 - (b) It is a regional effort to evolve cooperation.
 - (c) Its full form is South Asian Association for Revival of Cooperation.
 - (d) China is the most powerful member of SAARC.



- (26.2) साफ्टा (SAFTA) का सही विस्तृत रूप पहचानिए ।
- (a) साउथ एशियन फॉरेन ट्रेड एग्रीमेंट
 - (b) साउथ एशियन फाइनेंशियल ट्रेड एसोसिएशन
 - (c) साउथ एशियन फ्री ट्रेड एग्रीमेंट
 - (d) साउथ एशियन फ्री ट्रेवल एग्रीमेंट
- (26.3) निम्नलिखित में से किस देश को 'दक्षिण एशिया' में सम्मिलित **नहीं** किया जाता है ?
- (a) अफगानिस्तान
 - (b) पाकिस्तान
 - (c) चीन
 - (d) म्यांमार
- (26.4) नेपाल ने नए संविधान को किस वर्ष अंगीकृत किया था ?
- (a) 2014
 - (b) 2015
 - (c) 2016
 - (d) 2017

खण्ड ड

27. (क) स्वतंत्रता के पश्चात् पहली बार स्वतंत्र एवं निष्पक्ष चुनाव करवाने में भारत के चुनाव आयोग के समक्ष आई समस्याओं का विश्लेषण कीजिए । 6
- अथवा**
- (ख) स्वतंत्रता के पश्चात् पहले दो दशकों के दौरान भारत की राजनीति में विपक्षी दलों की भूमिका का आकलन कीजिए । 6
28. (क) सोवियत संघ में सुधार लाने हेतु गोर्बाचेव द्वारा प्रारंभ किए गए सुधारों के किन्हीं तीन विपरीत प्रभावों का विश्लेषण कीजिए । $3 \times 2 = 6$
- अथवा**
- (ख) सोवियत संघ के विघटन के किन्हीं तीन परिणामों का विश्लेषण कीजिए । $3 \times 2 = 6$



- (26.2) Identify the correct full form of SAFTA.
- (a) South Asian Foreign Trade Agreement
 - (b) South Asian Financial Trade Association
 - (c) South Asian Free Trade Agreement
 - (d) South Asian Free Travel Agreement
- (26.3) Which one of the following countries is **not** included in 'South Asia' ?
- (a) Afghanistan
 - (b) Pakistan
 - (c) China
 - (d) Myanmar
- (26.4) In which year did Nepal adopt a new constitution ?
- (a) 2014
 - (b) 2015
 - (c) 2016
 - (d) 2017

SECTION E

27. (a) Analyse the problems faced by the Election Commission of India in holding free and fair elections for the first time after Independence. 6
- OR**
- (b) Assess the role played by the opposition parties in the politics of India during the first two decades after Independence. 6
28. (a) Analyse any three adverse effects of the reforms initiated by Gorbachev in the Soviet Union. 3×2=6

OR

- (b) Analyse any three consequences of the disintegration of the Soviet Union. 3×2=6



29. (क) 'आनन्दपुर साहिब प्रस्ताव' में सम्मिलित अकाली दल की किन्हीं चार माँगों को उजागर कीजिए ।

6

अथवा

- (ख) 1990 में मंडल कमीशन की सिफारिशों को लागू करने से भारतीय राजनीति पर हुए किन्हीं तीन प्रभावों को उजागर कीजिए ।

3×2=6

30. (क) भारत में वैश्वीकरण के विरोध के किन्हीं तीन कारणों का विश्लेषण कीजिए ।

3×2=6

अथवा

- (ख) किन्हीं तीन अन्तर्राष्ट्रीय पर्यावरणीय आंदोलनों के प्रभावों का आकलन कीजिए ।

3×2=6



- 29.** (a) Highlight any four demands of Akali Dal included in the 'Anandpur Sahib Resolution'.

6

OR

- (b) Highlight any three effects of the implementation of Mandal Commission recommendations in 1990 on Indian politics.

3×2=6

- 30.** (a) Analyse any three reasons for resistance to globalisation in India. 3×2=6

OR

- (b) Assess the impact of any three international environmental movements.

3×2=6